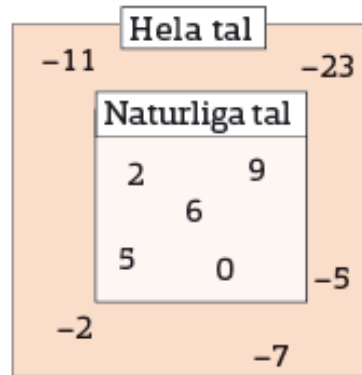
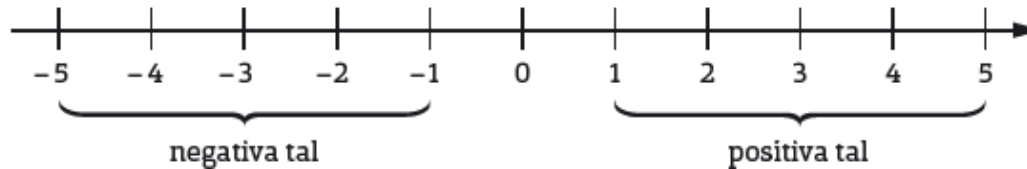


# X 1.3

# Hela tal

## Negativa och positiva heltal



$$3 > -5$$

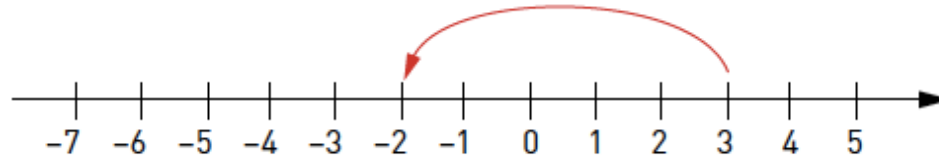
$$-9 < 0$$

Tecknet  $>$  betyder "är större än".

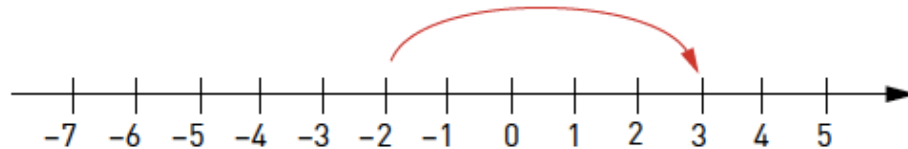
Tecknet  $<$  betyder "är mindre än".



Vilka uträkningar visas på tallinjerna nedan?

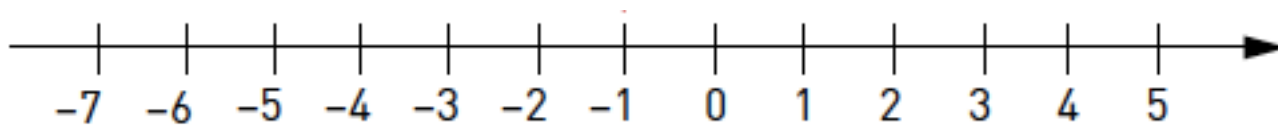


Svar:  $3 - 5 = -2$



Svar:  $-2 + 5 = 3$

Beräkna med huvudräkning eller med tallinjen.



$5 - 8$     Svar:  $-3$

$-6 - 2$     Svar:  $-8$

$-2 + 7$     Svar:  $5$

$-1 + 5 - 4$     Svar:  $0$